

國立中山大學 102 學年度 師資培育中心招生考試

科目名稱：綜合測驗

注意事項：

- 本測驗包括四種科目：中文、英文、邏輯分析與教育時事。
- 可以在試卷的空白處，建構出邏輯架構圖，以方便作答。
- 答案請填入專用答案卷表格內，違者不計分。
- 四科各25分，合計100分，每題配分如試題前的說明所示。
- 考試時間 100 分鐘。

國立中山大學 102 學年度師資培育中心招生考試

科目：中文測驗

一、語文應用：15%（每題 1 分，共 15 分）（單選題）

1. 下列各句，沒有錯別字的是哪一選項？

- (A) 小雞在草叢間追遂玩耍，牠們喜歡找炸蟻
- (B) 他的病情嚴重，醫生一再交待家屬要悉心觀照
- (C) 他擅場說故事，每則故事都發人深省，奈人尋味
- (D) 今夏高溫溽暑，在家中坐立難安，心情特別煩悶焦躁

2. 下列各語句，表現出「胸懷開闊」的是哪一選項？

- (A) 昨日勝今日，今日老去年
- (B) 海內存知己，天涯若比鄰
- (C) 春心莫共花爭發，一寸相思一寸灰
- (D) 憶來唯把舊書看，幾時攜手入長安

3. 下列文句：「他是()的外交人才，說理能()，讓國家()。」

空格處，依序要填上什麼成語：

- (A) 折衝樽俎／轉危為安／顧全大局
- (B) 引咎自責／仁盡義至／顧全大局
- (C) 折衝樽俎／切中要害／化險為夷
- (D) 同仇敵愾／轉危為安／捐棄前嫌

4. 下列文句：「這兩個投機政客()，他們的罪行()，大家都()。」

空格處，依序要填上什麼成語：

- (A) 沆瀣一氣／待價而沽／居心叵測
- (B) 居心叵測／行將就木／養鼠為患
- (C) 蜀犬吠日／居心叵測／義憤填膺
- (D) 沆瀣一氣／罄竹難書／義憤填膺

5. 下列成語：「()竅生煙、()步成詩、()面楚歌、()步

芳草」空格處，依序要填上什麼數字：

- (A) 七、六、四、六
- (B) 七、七、四、十
- (C) 五、七、八、四
- (D) 一、五、四、七

6.「雄髮指危冠，猛氣衝長纓；飲饑易水上，四座列群英。」詩句所描述的歷史人物是下列哪一選項？ (A)荊軻 (B)伍子胥 (C)項羽 (D)關羽

7.以下成語的語意，正確的是：

- (A)雪泥鴻爪：感歎人生聚散無常 (B)師心自用：尊師重道，用心學習
(C)遇人不淑：在路途中遇到凶暴之徒 (D)競相效尤：跟著做反而有效

8.下列選項，何者沒有錯別字：

- (A)他的畫風粗曠原始 (B)他披星戴月，南北奔波
(C)既往不究，不必再加苛責 (D)要抱著破釜沉舟的決心奮戰到底

9.下列選項，何者沒有錯別字：

- (A)我不過濫竽充數罷了 (B)既然行不通，只好改絃易轍
(C)他的惡行，於此可見一斑 (D)警察雖想逮捕，但投鼠忌器

10.下列選項，何者沒有錯別字：

- (A)他的創作風格，獨樹一幟 (B)想要請他襄助，得要有三顧茅廬的誠意
(C)落選也不要妄自菲薄 (D)他目不見捷，看不到公司內部的問題

11.張老師任教四十年，接受公開盛大表揚，下列賀詞最適切的是哪一選項？

- (A)春風化雨，功勳彪炳 (B)著手成春，百年樹人
(C)呦呦鹿鳴，鼓瑟吹笙 (D)作育英才，亶亶不息

12.以下對人的「自稱」，何者有誤：

- (A)父亡，稱「先嚴」 (B)母亡，稱「先考」
(C)稱哥哥為「家兄」 (D)稱妹妹為「舍妹」

13.以下「題辭」，何者不宜：

- (A)結婚 / 秦晉之好 (B)出嫁 / 雀屏妙選

(C)祝壽／德業長昭

(D)生女／弄瓦徵祥

14.「河邊的蘆葦，長了滿頭的白髮」，這段文字的修辭技巧與下列何者最相近：

(A)回眸一笑百媚生

(B)日出江花紅勝火

(C)紅杏枝頭春意鬧

(D)此地空餘黃鶴樓

15.語文中改變了原有詞彙的詞性稱為「轉品」，下列文句何者未使用轉品的技巧：

(A)蠶食諸侯，使秦成帝業

(B)不義而富且貴，於我如浮雲

(C)親賢臣，遠小人

(D)娘什麼？老子都不老子呀。

二、綜合測驗：10%（每題1分，共10分）

1.有關《左傳》的敘述，下列何者有誤：

(A)是左丘明所撰

(B)是紀傳體史書

(C)是《春秋》三傳之一

(D)對後世文學、史學有深遠的影響。

2.有關先秦諸子的敘述，下列何者有誤：

(A)莊子是道家的代表人物

(B)老子是春秋時代頗具影響力的政治家

(C)韓非為法家集大成者

(D)《孫子兵法》是兵家代表作。

3.下列對歷代作家的敘述，何者有誤：

(A)屈原作〈離騷〉以抒發憂思

(B)曹操、曹丕、曹植合稱為「三曹」

(C)元好問、白居易合稱「元白」

(D)韓愈、柳宗元合稱「韓柳」。

4.下列對律詩的敘述，何者有誤：

(A)律詩、絕句，皆是近體詩

(B)一首七言律詩共56個字

(C)律詩第一句句尾一定要押韻

(D)律詩三四句、五六句兩聯要對仗。

5.下列對詩人的敘述，何者有誤：

(A)杜甫號「青蓮居士」

(B)高適工於寫作邊塞詩

(C)白居易工於寫作新樂府

(D)謝靈運工於寫作山水詩。

6.下列詩歌名篇的作者，何者有誤：

- (A)〈月下獨酌〉／李白 (B)〈琵琶行〉／杜甫
(C)〈歸園田居〉／陶潛 (D)〈再別康橋〉／徐志摩

7.有關「詞」，下列的敘述，何者不正確：

- (A)詞大盛於兩宋 (B)詞又名為「長短句」
(C)詞的單位為「闕」 (D)藉由詞牌，可得知詞的主題、內容為何

8.孔子云：「四十、五十而無聞焉，斯亦不足畏也已。」孔子之意為：

- (A)到了中年，應淡泊名利
(B)中年人的學習能力低落，要認清此現實，不必徒勞無功
(C)勉勵年輕人要及時努力、進取
(D)勉勵年輕人要懂得包裝自己

9.下列有關季節描述的詩文，按照「春、夏、秋、冬」的順序加以排列，正確的是哪一選項？

- 甲、納涼時，波漲沙，滿湖香芰荷蒹葭
乙、停車坐愛楓林晚，霜葉紅於二月花
丙、陰風四野彤雲密，繚繞長空瑞雪飛
丁、由斷橋至蘇堤一帶，綠煙紅霧，彌漫二十餘里

- (A)甲乙丁丙 (B)乙甲丁丙 (C)丙甲乙丁 (D)丁甲乙丙

10.《韓非子·說難》：「凡說之務，在知飾所說之所矜，而滅其所恥。」其意義正確的是下列哪一選項？

- (A)遊說者必須用華麗的辭藻修飾自己所提出的意見
(B)遊說者必須掩飾自己的缺點，以取得在上位者的信任
(C)遊說者必須無視於在上位者的喜怒，真實表現自己的想法
(D)遊說者必須增飾在上位者自認為得意的想法，並掩飾其缺點

國立中山大學 102 學年度師資培育中心招生考試

科目：英文測驗

Multiple choice question : Q1~Q11: 2%each ; Q12:3%

1. "I was walking in the part when suddenly an enormous mouse turned up. It frightened me to death because it was as big as a tiger!" That's exactly a(n) _____ of describing a trivial event.
(A) explanation (B) **exaggeration** (C) equality (D) environment
2. To complete tomorrow's marathon race, you had better _____ your energy tonight and go to bed as early as possible.
(A) preserve (B) absorb (C) **conserve** (D) withdraw
3. There was a/n _____ need for clean water and medical supplies after the devastating earthquake.
(A) **urgent** (B) furious (C) amazing (D) brilliant
4. When the pop diva started to sing her love song, tens of thousands of fans _____ their lighters, waving their hands in the air, and sang along.
(A) fluttered (B) foresaw (C) flicked (D) **flared**
5. Yahoo! has announced that by the first half of 2010, they will _____ with Facebook via Facebook Connect, which means Yahoo! content will be accessible on Facebook.
(A) inject (B) **integrate** (C) irritate (D) intimidate

6. The piece of clothes is _____ because it is made with selected materials that can stretch. I believe it'll perfectly fit you and make you feel extremely comfortable. Would you like to try on?
(A) expressive (B) eventful (C) elastic (D) evident
7. Because our apartment is located near the _____ district, which is crowded with shoppers on weekends, it is never easy to find a quiet afternoon on weekends.
(A) harmful (B) commercial (C) decorative (D) religious
8. Credit card debt is a major problem to the society. To get rid of the problem, people need to follow certain basic steps to put a financial plan in place and they will be able to _____ the debt and pay it off sooner.
(A) educate (B) eliminate (C) emerge (D) enclose
9. On account of its successful advertisement and good reputation among Apple's users, the I-Pad is in high _____ in the market and is one of the most-sought-after commodities.
(A) performance (B) demand (C) loans (D) command
10. On New Year's Eve, I _____ the splendid fireworks of the countdown at Taipei 101. It was much more fun than watching it on TV.
(A) sparkled (B) negotiated (C) witnessed (D) prospered
11. The torrential rain brought by typhoon Morakot caused one of the greatest _____ in southern Taiwan.
(A) volcanoes (B) catastrophes (C) devices (D) parachutes
12. Mariah is glad to have the support from her friends and family. Things _____ not turn out good if they _____ not around to see her through her difficulties.
(A) do, were (B) did, had (C) would, are (D) would, were

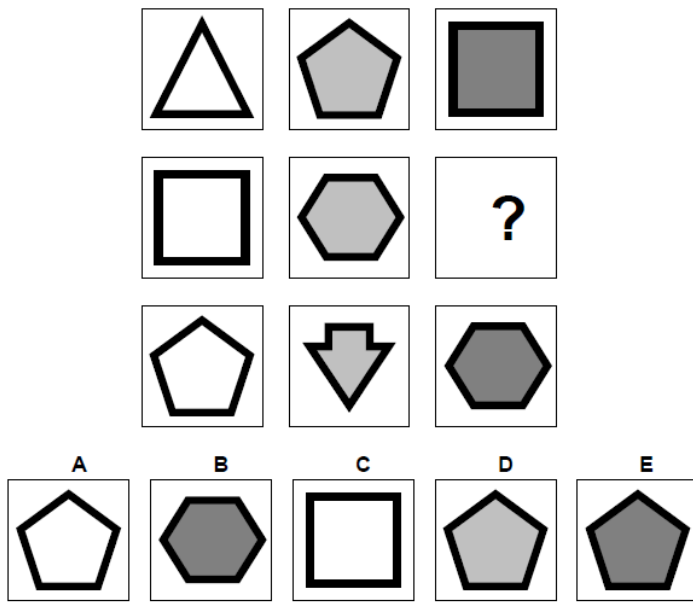
國立中山大學 102 學年度師資培育中心招生考試

科目：邏輯分析測驗


選擇題：(每題 2.5 分，共 25 分)

【Q1-Q5】請依規律找出空格裡的圖形。

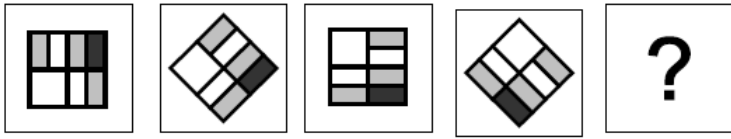
Q1 : E



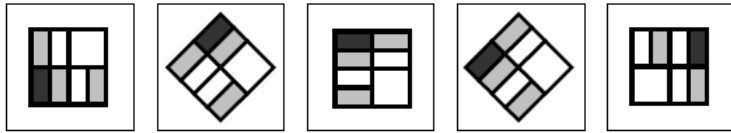
Q2 : E



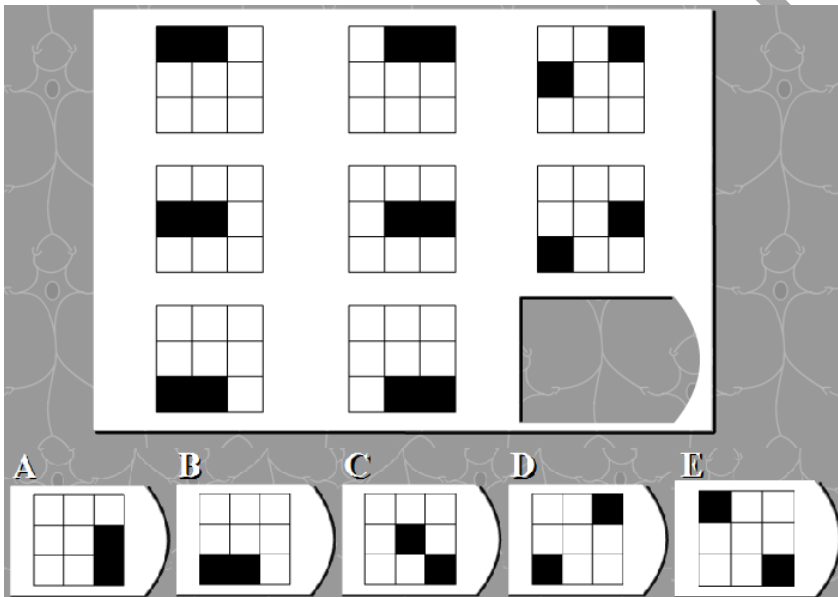
Q3 : A



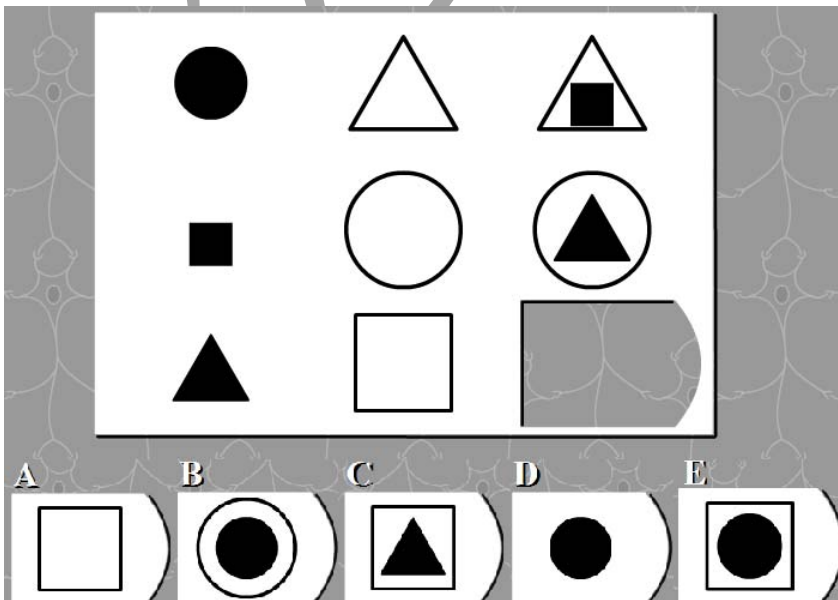
A B C D E



Q4 : E



Q5 : E



【Q6-Q10】

一個圖書館的預算委員會一定要刪減下列八種開支的其中五項，但其考量的條件如下：若 G、S 均降低，則 W 也降低；若 N 降低，則 R 和 S 都降低；若 P 降低，則 L 不可降低；L、M、R 三項中只能降兩項。

Q6：下列哪五項是委員會列舉出需要降低的清單？

- (A) G, L, M, N, W (B) G, L, M, P, W (C) G, M, N, R, W
(D) G, M, P, R, S (E) L, M, R, S, W

Q7：若 P 降低，則下列哪二項必須降低？

- (A) G, M (B) M, R (C) N, R (D) R, S (E) S, W

Q8：若 R 未降，下列何者為「正確」？

- (A) G 要降。 (B) N 不降。 (C) P 要降。 (D) S 要降。 (E) W 不降。

Q9：若 M、R 同時降，則下列哪二種均不可降？

- (A) G, L (B) G, N (C) L, N (D) L, P (E) P, S

Q10：下列何者一定要降？

- (A) G (B) L (C) N (D) P (E) W

國立中山大學 102 學年度師資培育中心招生考試

科目：教育時事測驗

選擇題：(每題 2.5 分，共 25 分)

1. 12 年國民基本教育的三大願景下列何者為非？

- (A) 提升中小學教育品質
- (B) 成就每一個孩子
- (C) 厚植國家競爭力
- (D) 追求社會公平正義

2. 「高級中等以下學校及幼兒園教師資格檢定考」及格標準為？

- (A) 只要總成績平均達 50 分以上，沒有一科零分或兩科未滿 50 分就算及格
- (B) 只要總成績平均達 60 分以上，沒有一科零分或兩科未滿 50 分就算及格
- (C) 只要總成績平均達 70 分以上，沒有一科零分或兩科未滿 50 分就算及格
- (D) 只要總成績平均達 80 分以上，沒有一科零分或兩科未滿 50 分就算及格

3. 當學校知悉學生在校園中發生疑似被性侵害事件時，依據「性侵害犯罪防治法」之規定，學校應採下列哪一項措施？

- (A) 應於 24 小時內通報
- (B) 需先取得家長之同意才可通報
- (C) 為避免二度傷害需徵得當事人同意才能通報
- (D) 為避免誣告情況應先確認事件是否發生再行通報

4. 下列有關國際學生評量計畫(The Programme for International Student Assessment, 簡稱 PISA)之敘述，何者正確？

- (A) 每四年舉行一次
- (B) 以 13 歲學生為施測對象
- (C) 要了解學生在未來成人生活所需重要知識與技能的能力
- (D) 測驗的內容分為閱讀素養、數學素養及藝文素養三個領域

5.教育部為瞭解國民素養變化，預計民國 105 年針對高中職學生抽測，其中包含下列哪五大領域？

- (A)語文、科學、數學、閱讀、教養（含美學）
- (B)語文、數學、環境、數位、教養（含美學）
- (C)語文、科學、數學、環境、閱讀
- (D)語文、科學、數學、數位、教養（含美學）

6.民國 103 年即將上路的十二年國教中所舉辦之會考所訂出之成績標準為？

- (A)高標、中標、低標
- (B)精熟、基礎、待加強
- (C)完全瞭解、部分瞭解、不瞭解
- (D)進階級、基礎級、新手級

7.目前我國教育部掌管中等學校師資培育的單位是？

- (A)中等教育司
- (B)師資培育及藝術教育司
- (C)師資培育與終身教育司
- (D)國民教育司

8.現行教育部定義，何謂完全中學？

- (A)同時設有國中部及高中部之學校
- (B)同時設有高中部及高職部之學校
- (C)大學附屬高中
- (D)同時設有國小部及國中部之學校

9.環境教育法規定高級中等以下學校，所有員工、教師、學生應每年參加幾小時以上的環境教育？

- (A)四小時
- (B)五小時
- (C)六小時
- (D)十小時

10.根據我國師資培育相關辦法，中等學校各類科教育學程之教育專業課程應修學分數為？

- (A)二十學分
- (B)二十六學分
- (C)四十學分
- (D)三十二學分